

**กิจกรรมการสอนเสริมออนไลน์ ครั้งที่ 1**  
**ชุดวิชา 60120 หลักเศรษฐศาสตร์เบื้องต้น**  
**ภาคการศึกษาที่ 2 ปีการศึกษา 2566**

**คะแนนในการเข้าร่วมกิจกรรมสอนเสริมออนไลน์สมบูรณ์แบบ** ประกอบด้วย

การเก็บคะแนนในการสอนเสริมออนไลน์สมบูรณ์แบบ แผนการศึกษา ก2 ครั้งที่ 1 และ ครั้งที่ 2 ครั้งละ 20 คะแนน รวม 2 ครั้ง ทั้งหมด 40 คะแนน แบ่งเป็น 3 ส่วน คือ

1) คะแนนเข้าร่วมการสอนเสริมออนไลน์สมบูรณ์แบบ แผนการศึกษา ก2 คะแนนเต็มรวม 10 คะแนน คะแนนเต็ม ครั้งที่ 1 รวม 5 คะแนน และคะแนนเต็ม ครั้งที่ 2 รวม 5 คะแนน

2) คะแนนการส่งกิจกรรมการสอนเสริมออนไลน์สมบูรณ์แบบ แผนการศึกษา ก2 จำนวน 2 กิจกรรม คะแนนเต็มรวม 20 คะแนน โดยให้นักศึกษาส่งกิจกรรมการสอนเสริมออนไลน์ฯ ครั้งที่ 1 คะแนนเต็มรวม 10 คะแนน และ ครั้งที่ 2 คะแนนเต็มรวม 10 คะแนน **หากนักศึกษาส่งกิจกรรมการสอนเสริมออนไลน์ฯ เลยกำหนด คะแนนเต็มของกิจกรรมฯ แต่ละครั้ง จะเหลือเพียง 8 คะแนน** นักศึกษาจะได้คะแนนการทำกิจกรรมการสอนเสริมออนไลน์ฯ เท่าไบนั้น ขึ้นกับการตอบคำถามครบถ้วนทุกข้อและตรงประเด็นคำถาม

3) การสอบย่อยเก็บคะแนนหลังการเข้ารับการสอนเสริมออนไลน์สมบูรณ์แบบ แผนการศึกษา ก2 คะแนนเต็มรวม 10 คะแนน คะแนนเต็ม ครั้งที่ 1 รวม 5 คะแนน และคะแนนเต็ม ครั้งที่ 2 รวม 5 คะแนน

รายละเอียดคะแนนในการเข้าร่วมกิจกรรมสอนเสริมออนไลน์สมบูรณ์แบบ สรุปได้ ดังนี้

1) คะแนนเข้าร่วมการสอนเสริมออนไลน์สมบูรณ์แบบ แผนการศึกษา ก2 คะแนนเต็มรวม 10 คะแนน คะแนนเต็ม ครั้งที่ 1 รวม 5 คะแนน และคะแนนเต็ม ครั้งที่ 2 รวม 5 คะแนน มีการเช็คชื่อการเข้าร่วมเรียนสอนเสริมออนไลน์ฯ ของนักศึกษาในวันเสาร์และวันอาทิตย์ที่มีการสอนเสริมออนไลน์ฯ

2) คะแนนการส่งกิจกรรมการสอนเสริมออนไลน์สมบูรณ์แบบ แผนการศึกษา ก2 จำนวน 2 กิจกรรม คะแนนเต็มรวม 20 คะแนน โดยให้นักศึกษาส่งกิจกรรมการสอนเสริมออนไลน์ฯ ครั้งที่ 1 คะแนนเต็มรวม 10 คะแนน [ส่งกิจกรรมหลังจากเข้ารับการสอนเสริมออนไลน์ฯ ครั้งที่ 1 ตามกำหนด วัน เวลา การส่งกิจกรรมฯ ครั้งที่ 1 (Due date)] และส่งกิจกรรมการสอนเสริมออนไลน์ฯ ครั้งที่ 2 คะแนนเต็มรวม 10 คะแนน [ส่งกิจกรรมหลังจากเข้ารับการสอนเสริมออนไลน์ฯ ครั้งที่ 2 ตามกำหนด วัน เวลา การส่งกิจกรรมฯ ครั้งที่ 2 (Due date)] **หากนักศึกษาส่งกิจกรรมการสอนเสริมออนไลน์ฯ เลยกำหนด (Due date) คะแนนเต็มของกิจกรรมฯ แต่ละครั้ง จะเหลือเพียง 8 คะแนน** นักศึกษาจะได้คะแนนของกิจกรรมฯ เท่าไหร่ ขึ้นกับ นักศึกษาจะได้คะแนนการทำกิจกรรมการสอนเสริมออนไลน์ฯ เท่าไบนั้น ขึ้นกับการตอบคำถามครบถ้วนทุกข้อและตรงประเด็นคำถาม **หากนักศึกษาส่งกิจกรรมฯ ช้ากว่ากำหนด วัน เวลา การปิดรับกิจกรรมฯ ล่าช้า (Cut off date) ของ ครั้งที่ 1 และ ครั้งที่ 2 ใน รุ่นที่ 1 และ รุ่นที่ 2 นักศึกษาจะไม่สามารถส่งกิจกรรมฯ ได้ และจะไม่มีคะแนนเก็บของกิจกรรมฯ**

การทำกิจกรรมการสอนเสริมออนไลน์ฯ ให้นักศึกษา ดาวนโหลดไฟล์ ในรูปเอกสาร และตอบคำถาม ให้ครบถ้วนทุกข้อและตรงประเด็นคำถาม เขียนด้วยลายมือตนเองเป็นลายมือที่อ่านง่าย โดยคำตอบของกิจกรรม อยู่ในเอกสารการสอนชุดวิชา 60120 หลักเศรษฐศาสตร์เบื้องต้น

เมื่อนักศึกษาทำกิจกรรมเสร็จ ขอให้นักศึกษาเก็บกิจกรรมที่ทำเสร็จแล้วไว้เป็นหลักฐาน และบันทึกกิจกรรม ในรูปแบบเป็น .pdf เท่านั้น โดยตั้งชื่อไฟล์ในรูปแบบต่อไปนี้

กิจกรรม ครั้งที่ 1 ชื่อไฟล์เอกสาร : กิจกรรม 1\_เลขที่ในห้องเรียน\_ชื่อ นามสกุล นักศึกษา\_รหัสนักศึกษา

กิจกรรม ครั้งที่ 2 ชื่อไฟล์เอกสาร : กิจกรรม 2\_เลขที่ในห้องเรียน\_ชื่อ นามสกุล นักศึกษา\_รหัสนักศึกษา

ตัวอย่างชื่อไฟล์เอกสาร : กิจกรรม 1\_เลขที่ 1\_สุโข ธรรมราช\_64400231

กิจกรรม 2\_เลขที่ 1\_สุโข ธรรมราช\_64400231

กำหนดการทำและส่งกิจกรรมการสอนเสริมออนไลน์ฯ

- การทำกิจกรรมการสอนเสริมออนไลน์ฯ ครั้งที่ 1 และ ครั้งที่ 2 : กำหนดวัน เวลา เปิดกิจกรรม (Allow Submission from) นักศึกษาเริ่มทำกิจกรรม ครั้งที่ 1 และ ครั้งที่ 2 ในวันศุกร์ที่ 10 พฤษภาคม 2567 เวลา 15.00 น. โดยทำกิจกรรมเขียนด้วยลายมือตนเองเป็นลายมือที่อ่านง่าย

- การส่งกิจกรรมการสอนเสริมออนไลน์ฯ ครั้งที่ 1 และ ครั้งที่ 2 : ขอให้นักศึกษาส่งกิจกรรมผ่านระบบ e-Learning ภายในวันและเวลาดำหนด ดังนี้

กิจกรรมสอนเสริมออนไลน์ฯ ครั้งที่ 1 และ ครั้งที่ 2 กำหนด วัน เวลา การส่งกิจกรรมฯ (Due date) รุ่นที่ 1 และ รุ่นที่ 2 คือ วันพุธที่ 3 กรกฎาคม 2567 ภายใน เวลา 23.59 น.

กำหนด วัน เวลา การปิดรับกิจกรรมฯ ล่าช้า (Cut off date) ของ ครั้งที่ 1 และ ครั้งที่ 2 ใน รุ่นที่ 1 และ รุ่นที่ 2 คือ วันศุกร์ที่ 5 กรกฎาคม 2567 เวลา 23.59 น. นักศึกษาที่ส่งกิจกรรมฯ ช้ากว่ากำหนด ของ วันศุกร์ที่ 5 กรกฎาคม 2567 เวลา 23.59 น. จะไม่สามารถส่งกิจกรรมฯ ได้ และจะไม่มีคะแนนเก็บของกิจกรรมฯ

3) การสอบย่อยเก็บคะแนนหลังการเข้ารับการสอนเสริมออนไลน์สมบูรณ์แบบ แผนการศึกษา ก2 คะแนนเต็มรวม 10 คะแนน โดยมีการสอบย่อยเก็บคะแนนในวันอาทิตย์ที่เข้ารับการสอนเสริมออนไลน์ฯ ครั้งที่ 1 คะแนนเต็มรวม 5 คะแนน และ ครั้งที่ 2 คะแนนเต็มรวม 5 คะแนน กำหนดการสอบย่อยเนื้อหาที่มีการเรียนสอนเสริมออนไลน์ฯ ในวันอาทิตย์ที่มีการสอนเสริมออนไลน์ฯ ในแต่ละครั้ง การสอนเสริมออนไลน์ฯ ครั้งที่ 1 สอบย่อย หน่วยที่ 1 – 8 และ การสอนเสริมออนไลน์ฯ ครั้งที่ 2 สอบย่อย หน่วยที่ 9 – 15

**กิจกรรมการสอนเสริมออนไลน์ ครั้งที่ 1**  
**ชุดวิชา 60120 หลักเศรษฐศาสตร์เบื้องต้น**  
**ภาคการศึกษาที่ 2 ปีการศึกษา 2566**

**คำชี้แจง**

ให้นักศึกษาดำเนินการ ดังนี้

1. ให้นักศึกษาตอบคำถามต่อไปนี้ให้ครบถ้วนทุกข้อและตรงประเด็นคำถาม ไม่ต้องลอกโจทย์คำถาม โดยเขียนด้วยลายมือตนเองเป็นลายมือที่อ่านง่าย โดยคำตอบของกิจกรรมครั้งที่ 1 อยู่ในเอกสารการสอนชุดวิชา 60120 หลักเศรษฐศาสตร์เบื้องต้น หน่วยที่ 1 - 8 (คำถามข้อ 1 คำตอบอยู่ในหน่วยที่ 1 คำตอบข้อ 2 อยู่ในหน่วยที่ 2 เรียงลำดับข้อตามหน่วย จนถึงคำถามข้อ 8 คำตอบอยู่ในหน่วยที่ 8) โดย **คะแนนเต็มกิจกรรมการสอนเสริมออนไลน์ฯ ครั้งที่ 1 คือ 10 คะแนน**

2. ให้นักศึกษาส่งกิจกรรมการสอนเสริมออนไลน์ ครั้งที่ 1 ผ่านระบบ e-Learning เก็บกิจกรรมที่ทำเสร็จแล้วไว้เป็นหลักฐาน และบันทึกกิจกรรม ในรูปแบบเป็น .pdf เท่านั้น โดยตั้งชื่อไฟล์ในรูปแบบต่อไปนี้

**กิจกรรม ครั้งที่ 1 ชื่อไฟล์เอกสาร : กิจกรรม 1\_เลขที่ในห้องเรียน\_ชื่อ นามสกุล นักศึกษา\_รหัส  
 นักศึกษา**

ตัวอย่างชื่อไฟล์เอกสาร : กิจกรรม 1\_เลขที่ 1\_สุโข ธรรมราช\_64400231

**การส่งกิจกรรมการสอนเสริมออนไลน์ฯ ครั้งที่ 1** ขอให้นักศึกษาส่งกิจกรรมผ่านระบบ e-Learning ภายในวันและเวลายกหนด หากนักศึกษาส่งกิจกรรมการสอนเสริมออนไลน์ฯ เลยกำหนด วัน เวลา การส่งกิจกรรมฯ (Due date) คะแนนเต็มของกิจกรรมฯ แต่ละครั้ง จากคะแนนเต็ม 10 คะแนน จะเหลือเพียง 8 คะแนน และหากนักศึกษาส่งกิจกรรมการสอนเสริมออนไลน์ฯ เลยกำหนด วัน เวลา การปิดรับกิจกรรมฯ ล่าช้า (Cut off date) นักศึกษาจะไม่สามารถส่งกิจกรรมฯ ได้ และไม่มีคะแนนเก็บของกิจกรรมฯ

**กิจกรรมสอนเสริมออนไลน์ฯ ครั้งที่ 1** กำหนด วัน เวลา การส่งกิจกรรมฯ (Due date) รุ่นที่ 1 และ รุ่นที่ 2 คือ วันพุธที่ 3 กรกฎาคม 2567 ภายใน เวลา 23.59 น.

อาจารย์ผู้สอนเสริมออนไลน์ฯ ในแต่ละครั้งในห้องเรียนของนักศึกษาจะเป็นผู้ตรวจกิจกรรมการสอนเสริมออนไลน์ฯ ของนักศึกษา และให้คะแนนกิจกรรมฯ แก่นักศึกษา นักศึกษาจะได้คะแนนการทำกิจกรรมการสอนเสริมออนไลน์ฯ เท่าใดนั้น ขึ้นกับการตอบคำถามครบถ้วนทุกข้อและตรงประเด็นคำถาม

**กำหนด วัน เวลา การปิดรับกิจกรรมฯ ล่าช้า (Cut off date) ของ ครั้งที่ 1 ใน รุ่นที่ 1 และ รุ่นที่ 2 คือ วันศุกร์ที่ 5 กรกฎาคม 2567 เวลา 23.59 น. นักศึกษาที่ส่งกิจกรรมฯ ช้ากว่ากำหนด ในวันศุกร์ที่ 5 กรกฎาคม 2567 เวลา 23.59 น. จะไม่สามารถส่งกิจกรรมฯ ได้ และจะไม่มีคะแนนเก็บของกิจกรรมฯ**

## 1. จงตอบคำถามต่อไปนี้ทุกข้อ (หน่วยที่ 1)

1.1 การศึกษาทางเศรษฐศาสตร์แบ่งออกเป็น 2 แขนง คือ เศรษฐศาสตร์จุลภาค (Microeconomics) และ เศรษฐศาสตร์มหภาค (Macroeconomics) การศึกษาทั้ง 2 แขนงนี้มีความแตกต่างกันอย่างไร และจากการศึกษาเอกสารการสอนชุดวิชาหลักเศรษฐศาสตร์เบื้องต้น ท่านคิดว่าหน่วยการสอนหน่วยใดบ้างและเนื้อหาเกี่ยวกับเรื่องใด จัดอยู่ในการศึกษาเศรษฐศาสตร์ในระดับจุลภาค และระดับมหภาค

1.2 แนวทางการศึกษาเศรษฐศาสตร์เชิงวิเคราะห์และเศรษฐศาสตร์เชิงนโยบายแตกต่างกันอย่างไร จงอธิบาย พร้อมยกตัวอย่าง

1.3 จงอธิบายลักษณะสำคัญของระบบเศรษฐกิจแบบเสรีนิยม (ระบบเศรษฐกิจแบบทุนนิยม) ระบบเศรษฐกิจแบบวางแผนจากส่วนกลาง (ระบบเศรษฐกิจแบบสังคมนิยม) และระบบเศรษฐกิจแบบผสม

## 2. จงตอบคำถามต่อไปนี้ทุกข้อ (หน่วยที่ 2)

2.1 จงอธิบายความแตกต่างระหว่าง “การเปลี่ยนแปลงปริมาณอุปสงค์บนเส้นเดียวกัน” กับ “การเปลี่ยนแปลงเส้นอุปสงค์” และระบุปัจจัยที่กำหนดการเปลี่ยนแปลงของอุปสงค์แต่ละลักษณะดังกล่าว

2.2 จงอธิบายความหมายของ “การเปลี่ยนแปลงปริมาณอุปทานบนเส้นเดียวกัน” และ “การเปลี่ยนแปลงเส้นอุปทาน” และระบุปัจจัยที่กำหนดการเปลี่ยนแปลงของอุปทานแต่ละลักษณะดังกล่าว

2.3 พ่อค้าผลไม้สังเกตเห็นว่าถ้าวันไหนเขากำหนดราคาลำไยไว้ที่โลกรัมละ 40 บาท ผู้บริโภคจะซื้อโดยเฉลี่ยวันละ 80 กิโลกรัม แต่ถ้าเขาเพิ่มราคาเป็นกิโลกรัมละ 45 บาท ผู้บริโภคจะซื้อลดลงโดยเฉลี่ยวันละ 60 กิโลกรัม จงคำนวณหาความยืดหยุ่นของอุปสงค์ต่อราคาของลำไยในกรณีดังกล่าว (ใช้วิธีการคำนวณแบบจุด)

(สูตรความยืดหยุ่นของอุปสงค์ต่อราคาแบบจุด:  $E_{dp} = \frac{Q_2 - Q_1}{P_2 - P_1} \times \frac{P_1}{Q_1}$ )

2.4 พ่อค้าผลไม้ในตลาดแห่งหนึ่ง ถ้าวันไหนราคาเงาะที่ขายกันในตลาดอยู่ที่กิโลกรัมละ 50 บาท เขาจะนำเงาะออกมาขายจำนวน 80 กิโลกรัม แต่ถ้าราคาเงาะเพิ่มเป็นกิโลกรัมละ 55 บาท เขายินดีนำเงาะออกมาขาย 100 กิโลกรัม จงคำนวณหาความยืดหยุ่นของอุปทานต่อราคาเงาะของพ่อค้ารายนี้ (ใช้วิธีการคำนวณแบบจุด)

(สูตรความยืดหยุ่นของอุปทานต่อราคาแบบจุด:  $E_{sp} = \frac{Q_2 - Q_1}{P_2 - P_1} \times \frac{P_1}{Q_1}$ )

### 3. จงตอบคำถามต่อไปนี้ทุกข้อ (หน่วยที่ 3)

3.1 กำหนดให้ราคาสินค้า X เท่ากับ 15 บาท และราคาสินค้า Y เท่ากับ 35 บาท และค่าอรรถประโยชน์ดังแสดงในตาราง

จำนวนสินค้า ชิ้น	สินค้า X		สินค้า Y	
	$MU_x$	$TU_x$	$MU_y$	$TU_y$
1	190	190	270	270
2	150	340	190	460
3	130	470	150	610
4	70	540	80	690
5	10	550	40	730

จงระบุจำนวนสินค้า X และสินค้า Y ที่ผู้บริโภคจะตัดสินใจซื้อ ภายใต้งบประมาณที่มีอยู่ 85 บาท เพื่อให้ผู้บริโภคได้รับอรรถประโยชน์รวมสูงสุด

3.2 จากจำนวนสินค้า X และสินค้า Y ณ จุดต่างๆ ที่กำหนดให้

จุด	จำนวนสินค้า Y	จำนวนสินค้า X	$MRS_{XY}$
A	34	2	
B	24	4	
C	16	6	
D	10	8	
E	6	10	
F	4	12	

จงวาดกราฟเส้นความพอใจเท่ากัน (IC) และคำนวณค่า  $MRS_{XY}$  ของแต่ละจุดในสถมภ์ที่ 4

### ข้อ 4. จงตอบคำถามต่อไปนี้ทุกข้อ (หน่วยที่ 4)

4.1 จากข้อมูลตารางเป็นการผลิตระยะสั้นของหน่วยผลิตรายหนึ่งต่อสัปดาห์ จงคำนวณ ผลผลิตเฉลี่ยในสถมภ์ที่ (4) และผลผลิตส่วนเพิ่มในสถมภ์ที่ (5)

เครื่องจักร (K) (เครื่อง)	แรงงาน (L) (คน)	ผลผลิตรวม (TP) (หน่วย)	ผลผลิตเฉลี่ย (AP) (หน่วยต่อคน)	ผลผลิตส่วนเพิ่ม (MP) (หน่วยต่อคน)
(1)	(2)	(3)	(4)	(5)
5	5	200		
5	6	540		
5	7	1,400		
5	8	2,000		
5	9	2,160		

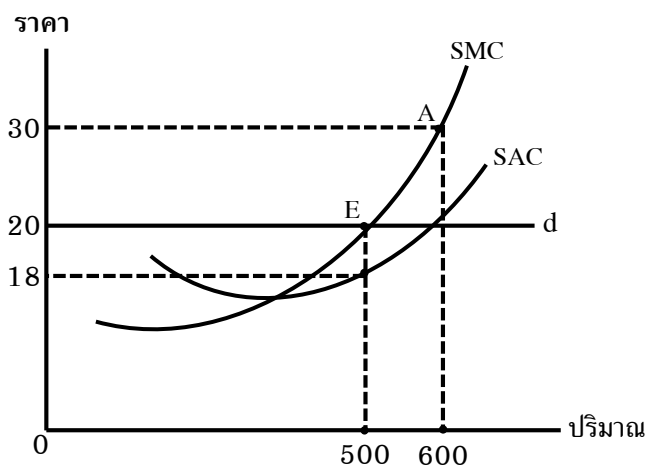
## 4.2 จงตอบคำถามต่อไปนี้

- 1) จงอธิบายความหมายและลักษณะสำคัญของเส้นผลผลิตเท่ากัน
- 2) จงอธิบายการเคลื่อนย้ายเส้นต้นทุนเท่ากัน (ก) กรณีงบประมาณเพิ่มขึ้น แต่ราคาปัจจัยการผลิตไม่เปลี่ยนแปลง และ (ข) กรณีค่าจ้างแรงงานปรับเพิ่มขึ้น แต่ค่าใช้จ่ายบริการทุนรวมถึงงบประมาณคงที่ ไม่เปลี่ยนแปลง
- 3) จงระบุเงื่อนไขสำคัญของการวิเคราะห์ส่วนประสมปัจจัยการผลิตที่เหมาะสมที่สุด กรณีการผลิตที่เสียต้นทุนต่ำสุด ภายใต้จำนวนผลผลิตที่กำหนด

4.3 จงอธิบายความหมายของเส้นต้นทุนเฉลี่ยระยะยาว และเส้นต้นทุนส่วนเพิ่มระยะยาว พร้อมเขียนกราฟประกอบแสดงลักษณะความสัมพันธ์ของเส้นทั้ง 2

ข้อ 5. จงตอบคำถามต่อไปนี้ทุกข้อ (หน่วยที่ 5)

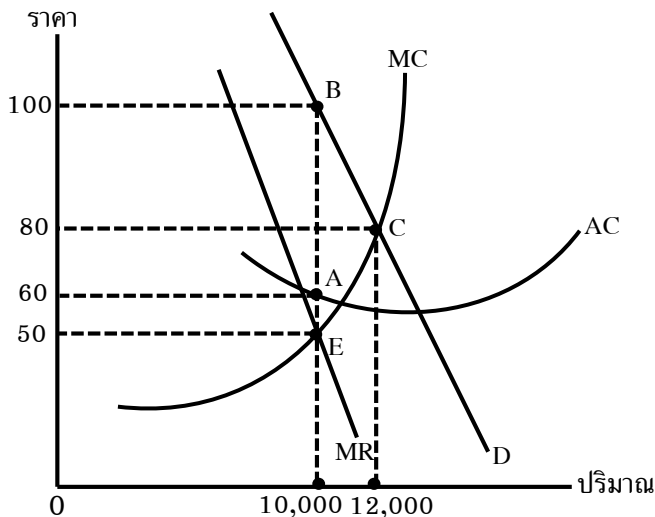
## 5.1



จากกราฟเป็นผลประกอบการของหน่วยธุรกิจรายหนึ่ง เพื่อให้ได้กำไรสูงสุด จงตอบคำถามโดยเติมคำในช่องว่าง

- 1) หน่วยธุรกิจผลิตสินค้าในตลาดสินค้า (ประเภทใด) \_\_\_\_\_  
ผลิตสินค้าจำนวน \_\_\_\_\_ หน่วย
- 2) ราคาสินค้าเท่ากับ \_\_\_\_\_ บาทต่อหน่วย
- 3) รายรับส่วนเพิ่มเท่ากับ \_\_\_\_\_ บาทต่อหน่วย
- 4) รายรับเฉลี่ยเท่ากับ \_\_\_\_\_ บาทต่อหน่วย
- 5) ต้นทุนส่วนเพิ่มเท่ากับ \_\_\_\_\_ บาทต่อหน่วย
- 6) รายรับทั้งหมดเท่ากับ \_\_\_\_\_ บาท
- 7) ต้นทุนทั้งหมดเท่ากับ \_\_\_\_\_ บาท
- 8) (กำไรเกินปกติ/ กำไรปกติ/ ขาดทุน) เท่ากับ \_\_\_\_\_ บาท
- 9) กรณีที่หน่วยธุรกิจผลิตสินค้า 600 หน่วย ต้นทุนส่วนเพิ่มเท่ากับ \_\_\_\_\_  
บาทต่อหน่วย หน่วยธุรกิจควรตัดสินใจผลิตสินค้า (เพิ่มขึ้น/ลดลง) \_\_\_\_\_ จำนวน \_\_\_\_\_  
หน่วย จึงจะได้รับกำไรสูงสุด

5.2



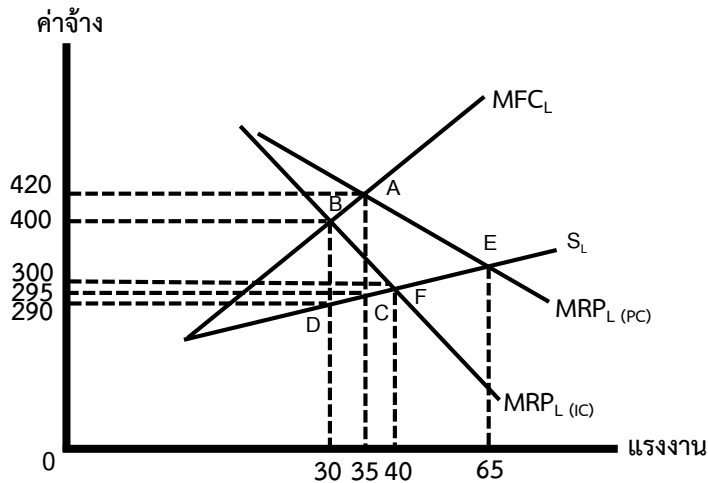
จากกราฟเป็นการวิเคราะห์หตุลยภาพของหน่วยธุรกิจในตลาดผูกขาด จงตอบคำถามโดยเติมคำในช่องว่าง

- 1) ราคาสินค้าเท่ากับ \_\_\_\_\_ บาทต่อหน่วย
- 2) ต้นทุนส่วนเพิ่มเท่ากับ \_\_\_\_\_ บาทต่อหน่วย
- 3) รายรับส่วนเพิ่มเท่ากับ \_\_\_\_\_ บาทต่อหน่วย
- 4) รายรับเฉลี่ยเท่ากับ \_\_\_\_\_ บาทต่อหน่วย
- 5) รายรับทั้งหมดเท่ากับ \_\_\_\_\_ บาท
- 6) ต้นทุนทั้งหมดเท่ากับ \_\_\_\_\_ บาท
- 7) (กำไรเกินปกติ/ กำไรปกติ/ ขาดทุน) เท่ากับ \_\_\_\_\_ บาท
- 8) ถ้ารัฐบาลใช้มาตรการป้องกันการผูกขาดของหน่วยธุรกิจ โดยกำหนดให้ขายสินค้าในราคาอุดมคติ หน่วยธุรกิจต้องขายสินค้า หน่วยละ \_\_\_\_\_ บาท และผลิตสินค้าจำนวน \_\_\_\_\_ หน่วย

6. จงตอบคำถามต่อไปนี้ทุกข้อ (หน่วยที่ 6)

- 6.1 จงอธิบายลักษณะของตลาดกึ่งแข่งขันกึ่งผูกขาด
- 6.2 จงระบุเงื่อนไขของการวิเคราะห์กำไรสูงสุดของหน่วยธุรกิจในตลาดกึ่งแข่งขันกึ่งผูกขาดในระยะสั้น ในกรณีได้รับกำไรเกินปกติ
- 6.3 จงวาดกราฟแสดงเส้นอุปสงค์หักงอ และอธิบายกลยุทธ์การตั้งราคาจากกราฟ
- 6.4 องค์ประกอบสำคัญของทฤษฎีเกมมีอะไรบ้าง

7. จากข้อมูลที่กำหนดให้ จงตอบคำถามต่อไปนี้ทุกข้อ (หน่วยที่ 7)



7.1 จากภาพแสดงถึงเงื่อนไขการจ้างแรงงานเพื่อให้ได้กำไรสูงสุดกรณีตลาดแรงงานแข่งขันไม่สมบูรณ์และตลาดผลผลิตแข่งขันไม่สมบูรณ์ จุดดุลยภาพในการจ้างแรงงานเพื่อให้ได้กำไรสูงสุดคือจุดใด ค่าจ้างแรงงานที่บาทต่อคนต่อวัน และจ้างแรงงานทั้งหมดกี่คน

7.2 ปัจจัยต่างๆ ที่กำหนดอัตราผลตอบแทนของทุนหรือประสิทธิภาพส่วนเพิ่มในการลงทุนได้แก่ปัจจัยอะไรบ้าง จงอธิบาย

7.3 ต้นทุนทางบัญชีและต้นทุนทางเศรษฐศาสตร์แตกต่างกันอย่างไร จงอธิบาย

8. จงตอบคำถามต่อไปนี้ทุกข้อ (หน่วยที่ 8)

8.1 จงอธิบายแนวคิดของ วิลเฟรโด พาเรโต ในเรื่องของสวัสดิการสังคมสูงสุด

8.2 จงอธิบายสาเหตุของความล้มเหลวของตลาด และบทบาทของรัฐในการจัดการความล้มเหลวของตลาดที่มีสาเหตุมาจากผู้บริโภคและหน่วยธุรกิจได้รับข้อมูลไม่เท่าเทียมกัน

8.3 ผลกระทบภายนอกหมายถึงอะไร แบ่งออกเป็นกี่ประเภท พร้อมยกตัวอย่างผลกระทบภายนอกแต่ละประเภทมาให้เข้าใจ

\*\*\*\*\*