

กิจกรรมการสอนเสริมออนไลน์ ครั้งที่ 1
ชุดวิชา 60120 หลักเศรษฐศาสตร์เบื้องต้น
ภาคการศึกษาที่ 1 ปีการศึกษา 2567

คะแนนในการเข้าร่วมกิจกรรมสอนเสริมออนไลน์สมบูรณ์แบบ สรุไปได้ ดังนี้

1) คะแนนเข้าร่วมการสอนเสริมออนไลน์สมบูรณ์แบบ แผนการศึกษา ก2 คะแนนเต็มรวม 10 คะแนน คะแนนเต็ม ครั้งที่ 1 รวม 5 คะแนน และคะแนนเต็ม ครั้งที่ 2 รวม 5 คะแนน มีการเช็คชื่อการเข้าร่วมเรียนสอนเสริมออนไลน์ฯ ของนักศึกษาในวันเสาร์และวันอาทิตย์ที่มีการสอนเสริมออนไลน์ฯ

2) คะแนนการส่งกิจกรรมการสอนเสริมออนไลน์สมบูรณ์แบบ แผนการศึกษา ก2 จำนวน 2 กิจกรรม คะแนนเต็มรวม 20 คะแนน โดยให้นักศึกษาส่งกิจกรรมการสอนเสริมออนไลน์ฯ ครั้งที่ 1 คะแนนเต็มรวม 10 คะแนน [ส่งกิจกรรมหลังจากเข้ารับการสอนเสริมออนไลน์ฯ ครั้งที่ 1 ตามกำหนด วัน เวลา การส่งกิจกรรมฯ ครั้งที่ 1 (Due date)] และส่งกิจกรรมการสอนเสริมออนไลน์ฯ ครั้งที่ 2 คะแนนเต็มรวม 10 คะแนน [ส่งกิจกรรมหลังจากเข้ารับการสอนเสริมออนไลน์ฯ ครั้งที่ 2 ตามกำหนด วัน เวลา การส่งกิจกรรมฯ ครั้งที่ 2 (Due date)] หากนักศึกษาส่งกิจกรรมการสอนเสริมออนไลน์ฯ เลยกำหนด (Due date) คะแนนเต็มของกิจกรรมฯ แต่ละครั้ง จะเหลือเพียง 8 คะแนน นักศึกษาจะได้คะแนนของกิจกรรมฯ เท่าไหร่ ขึ้นกับ นักศึกษาจะได้คะแนนการทำกิจกรรมการสอนเสริมออนไลน์ฯ เท่าใดนั้น ขึ้นกับการตอบคำถามครบถ้วนทุกข้อและตรงประเด็นคำถาม หากนักศึกษาส่งกิจกรรมฯ ช้ากว่ากำหนด วัน เวลา การปิดรับกิจกรรมฯ ล่าช้า (Cut off date) ของ ครั้งที่ 1 และ ครั้งที่ 2 ใน รุ่นที่ 1 และ รุ่นที่ 2 นักศึกษาจะไม่สามารถส่งกิจกรรมฯ ได้ และจะไม่มีคะแนนเก็บของกิจกรรมฯ

3) การสอบย่อยเก็บคะแนนหลังการเข้ารับการสอนเสริมออนไลน์สมบูรณ์แบบ แผนการศึกษา ก2 คะแนนเต็มรวม 10 คะแนน โดยมีการสอบย่อยเก็บคะแนนในวันอาทิตย์ที่เข้ารับการสอนเสริมออนไลน์ฯ ครั้งที่ 1 คะแนนเต็มรวม 5 คะแนน และ ครั้งที่ 2 คะแนนเต็มรวม 5 คะแนน กำหนดการสอบย่อยเนื้อหาที่มีการเรียนสอนเสริมออนไลน์ฯ ในวันอาทิตย์ที่มีการสอนเสริมออนไลน์ฯ ในแต่ละครั้ง การสอนเสริมออนไลน์ฯ ครั้งที่ 1 สอบย่อย หน่วยที่ 1 - 8 และ การสอนเสริมออนไลน์ฯ ครั้งที่ 2 สอบย่อย หน่วยที่ 9 - 15

กิจกรรมการสอนเสริมออนไลน์ ครั้งที่ 1
ชุดวิชา 60120 หลักเศรษฐศาสตร์เบื้องต้น
ภาคการศึกษาที่ 1 ปีการศึกษา 2567

คำชี้แจง

ให้นักศึกษาดำเนินการ ดังนี้

1. ให้นักศึกษาตอบคำถามต่อไปนี้ให้ครบถ้วนทุกข้อและตรงประเด็นคำถาม ไม่ต้องลอกโจทย์คำถาม โดยเขียนด้วยลายมือตนเองเป็นลายมือที่อ่านง่าย โดยคำตอบของกิจกรรมครั้งที่ 1 อยู่ในเอกสารการสอนชุดวิชา 60120 หลักเศรษฐศาสตร์เบื้องต้น หน่วยที่ 1 - 8 (คำถามข้อ 1 คำตอบอยู่ในหน่วยที่ 1 คำตอบข้อ 2 อยู่ในหน่วยที่ 2 เรียงลำดับข้อตามหน่วย จนถึงคำถามข้อ 8 คำตอบอยู่ในหน่วยที่ 8) โดย **คะแนนเต็มกิจกรรมการสอนเสริมออนไลน์ฯ ครั้งที่ 1 คือ 10 คะแนน**

2. ให้นักศึกษาส่งกิจกรรมการสอนเสริมออนไลน์ ครั้งที่ 1 ผ่านระบบ e-Learning เก็บกิจกรรมที่ทำเสร็จแล้วไว้เป็นหลักฐาน และบันทึกกิจกรรม ในรูปแบบเป็น .pdf เท่านั้น โดยตั้งชื่อไฟล์ในรูปแบบต่อไปนี้

**กิจกรรม ครั้งที่ 1 ชื่อไฟล์เอกสาร : กิจกรรม 1_เลขที่ในห้องเรียน_ชื่อ นามสกุล นักศึกษา_รหัส
 นักศึกษา**

ตัวอย่างชื่อไฟล์เอกสาร : กิจกรรม 1_เลขที่ 1_สุโข ธรรมราช_64400231

การส่งกิจกรรมการสอนเสริมออนไลน์ฯ ครั้งที่ 1 ขอให้นักศึกษาส่งกิจกรรมผ่านระบบ e-Learning ภายในวันและเวลาดำหนด หากนักศึกษาส่งกิจกรรมการสอนเสริมออนไลน์ฯ เลยกำหนด วัน เวลา การส่งกิจกรรมฯ (Due date) คะแนนเต็มของกิจกรรมฯ แต่ละครั้ง จากคะแนนเต็ม 10 คะแนน จะเหลือเพียง 8 คะแนน และหากนักศึกษาส่งกิจกรรมการสอนเสริมออนไลน์ฯ เลยกำหนด วัน เวลา การปิดรับกิจกรรมฯ ล่าช้า (Cut off date) นักศึกษาจะไม่สามารถส่งกิจกรรมฯ ได้ และไม่มีคะแนนเก็บของกิจกรรมฯ

กิจกรรมสอนเสริมออนไลน์ฯ ครั้งที่ 1 กำหนด วัน เวลา การส่งกิจกรรมฯ (Due date) รุ่นที่ 1 และ รุ่นที่ 2 คือ วันศุกร์ที่ 17 มกราคม 2568 ภายใน เวลา 15.30 น.

อาจารย์ผู้สอนเสริมออนไลน์ฯ ในแต่ละครั้งในห้องเรียนของนักศึกษาจะเป็นผู้ตรวจกิจกรรมการสอนเสริมออนไลน์ฯ ของนักศึกษา และให้คะแนนกิจกรรมฯ แก่นักศึกษา นักศึกษาจะได้คะแนนการทำกิจกรรมการสอนเสริมออนไลน์ฯ เท่าใดนั้น ขึ้นกับการตอบคำถามครบถ้วนทุกข้อและตรงประเด็นคำถาม

กำหนด วัน เวลา การปิดรับกิจกรรมฯ ล่าช้า (Cut off date) ของ ครั้งที่ 1 ใน รุ่นที่ 1 และ รุ่นที่ 2 คือ วันจันทร์ที่ 20 มกราคม 2568 เวลา 15.30 น. นักศึกษาที่ส่งกิจกรรมฯ ช้ากว่ากำหนด ในวันจันทร์ที่ 20 มกราคม 2568 เวลา 15.30 น. จะไม่สามารถส่งกิจกรรมฯ ได้ และจะไม่มีคะแนนเก็บของกิจกรรมฯ

กิจกรรมการสอนเสริมออนไลน์ ครั้งที่ 1
ชุดวิชา 60120 หลักเศรษฐศาสตร์เบื้องต้น
ภาคการศึกษาที่ 1 ปีการศึกษา 2567

คำชี้แจง

ให้นักศึกษาตอบคำถามต่อไปนี้ให้ครบถ้วนทุกข้อและตรงประเด็นคำถาม ไม่ต้องลอกโจทย์คำถาม โดยเขียนด้วยลายมือตนเองเป็นลายมือที่อ่านง่าย โดยกิจกรรมครั้งที่ 1 เนื้อหาของคำตอบจะอยู่ในเอกสารการสอนชุดวิชา 60120 หลักเศรษฐศาสตร์เบื้องต้น หน่วยที่ 1 - 8 (คำถามข้อ 1 คำตอบอยู่ในหน่วยที่ 1 คำตอบข้อ 2 อยู่ในหน่วยที่ 2 เรียงลำดับข้อตามหน่วย จนถึงคำถามข้อ 8 คำตอบอยู่ในหน่วยที่ 8) โดย **คะแนนเต็มกิจกรรมการสอนเสริมออนไลน์ฯ ครั้งที่ 1 คือ 10 คะแนน**

1. จงตอบคำถามต่อไปนี้ทุกข้อ (หน่วยที่ 1)

1.1 การศึกษาทางเศรษฐศาสตร์แบ่งออกเป็น 2 แขนง คือ เศรษฐศาสตร์จุลภาค (Microeconomics) และ เศรษฐศาสตร์มหภาค (Macroeconomics) การศึกษาทั้ง 2 แขนงนี้มีความแตกต่างกันอย่างไร และจากการศึกษาเอกสารการสอนชุดวิชาหลักเศรษฐศาสตร์เบื้องต้น ท่านคิดว่าหน่วยการสอนหน่วยใดบ้างและเนื้อหาเกี่ยวกับเรื่องใดจัดอยู่ในการศึกษาเศรษฐศาสตร์ในระดับจุลภาค และระดับมหภาค

1.2 แนวทางการศึกษาเศรษฐศาสตร์เชิงวิเคราะห์และเศรษฐศาสตร์เชิงนโยบายแตกต่างกันอย่างไร จงอธิบายพร้อมยกตัวอย่าง

1.3 จงอธิบายลักษณะสำคัญของระบบเศรษฐกิจแบบเสรีนิยม (ระบบเศรษฐกิจแบบทุนนิยม) ระบบเศรษฐกิจแบบวางแผนจากส่วนกลาง (ระบบเศรษฐกิจแบบสังคมนิยม) และระบบเศรษฐกิจแบบผสม

2. จงตอบคำถามต่อไปนี้ทุกข้อ (หน่วยที่ 2)

2.1 จงอธิบายความแตกต่างระหว่าง “การเปลี่ยนแปลงปริมาณอุปสงค์บนเส้นอุปสงค์เดียวกัน” กับ “การเปลี่ยนแปลงเส้นอุปสงค์” และระบุปัจจัยที่กำหนดการเปลี่ยนแปลงของอุปสงค์แต่ละลักษณะดังกล่าว

2.2 จงอธิบายความหมายของ “การเปลี่ยนแปลงปริมาณอุปทานบนเส้นอุปทานเดียวกัน” และ “การเปลี่ยนแปลงเส้นอุปทาน” และระบุปัจจัยที่กำหนดการเปลี่ยนแปลงของอุปทานแต่ละลักษณะดังกล่าว

2.3 พ่อค้าผลไม้สังเกตเห็นว่า ถ้าวันไหนเขากำหนดราคาลำไยไว้ที่โลกรัมละ 40 บาท ผู้บริโภคจะซื้อโดยเฉลี่ยวันละ 80 กิโลกรัม แต่ถ้าเขาเพิ่มราคาเป็นโลกรัมละ 45 บาท ผู้บริโภคจะซื้อลดลงโดยเฉลี่ยวันละ 60 กิโลกรัม จงคำนวณหาความยืดหยุ่นของอุปสงค์ต่อราคาของลำไยในกรณีดังกล่าว (ใช้วิธีการคำนวณแบบจุด)

(สูตรความยืดหยุ่นของอุปสงค์ต่อราคาแบบจุด: $E_{dp} = \frac{Q_2 - Q_1}{P_2 - P_1} \times \frac{P_1}{Q_1}$)

2.4 พ่อค้าผลไม้ในตลาดแห่งหนึ่งสังเกตเห็นว่า ถ้าวันไหนราคาเงาะที่ขายกันในตลาดอยู่ที่กิโลกรัมละ 50 บาท เขาจะนำเงาะออกมาขายจำนวน 80 กิโลกรัม แต่ถ้าราคาเงาะเพิ่มเป็นโลกรัมละ 55 บาท เขายินดีนำเงาะออกมาขาย 100 กิโลกรัม จงคำนวณหาความยืดหยุ่นของอุปทานต่อราคาเงาะของพ่อค้ารายนี้ (ใช้วิธีการคำนวณแบบจุด)

(สูตรความยืดหยุ่นของอุปทานต่อราคาแบบจุด: $E_{sp} = \frac{Q_2 - Q_1}{P_2 - P_1} \times \frac{P_1}{Q_1}$)

3. จงตอบคำถามต่อไปนี้ทุกข้อ (หน่วยที่ 3)

3.1 จงอธิบายความหมายและลักษณะของเส้นความพอใจเท่ากันในกรณีสินค้าทั่วไป และความหมายของเส้นงบประมาณ

3.2 จงอธิบายดุลยภาพผู้บริโภคตามแนวคิดอรรถประโยชน์ พร้อมระบุเงื่อนไขดุลยภาพผู้บริโภคดังกล่าว

3.3 จงอธิบายดุลยภาพผู้บริโภคตามแนวคิดความพอใจเท่ากัน พร้อมระบุเงื่อนไขดุลยภาพผู้บริโภคและวาดกราฟประกอบ

ข้อ 4. จงตอบคำถามต่อไปนี้ทุกข้อ (หน่วยที่ 4)

4.1 ในแต่ละช่วงการผลิต (Stage of production) ความสัมพันธ์ของผลผลิตรวม ผลผลิตเฉลี่ย และผลผลิตส่วนเพิ่ม มีความสัมพันธ์กันอย่างไร

4.2 จงคำนวณหาค่า AP และ MP ของข้อมูลการผลิตในระยะสั้นตามตาราง

เครื่องจักร (เครื่อง)	แรงงาน (คน)	TP (หน่วย)	AP (หน่วยต่อคน)	MP (หน่วยต่อคน)
3	5	60		
3	6	84		
3	7	126		
3	8	136		

4.3 จงอธิบายลักษณะสำคัญของเส้นผลผลิตเท่ากัน

4.4 $MRTS_{LK}$ หมายถึงอะไร เกี่ยวข้องอย่างไรกับเส้นผลผลิตเท่ากัน

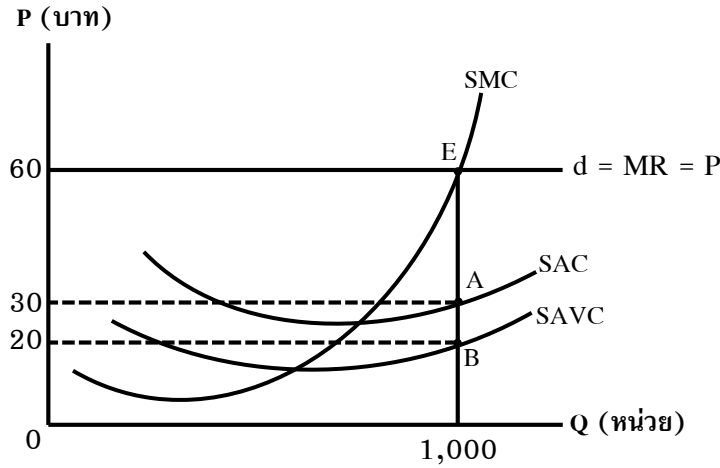
4.5 การวิเคราะห์ดุลยภาพของหน่วยผลิตมีเงื่อนไขความสัมพันธ์ระหว่างเส้นผลผลิตเท่ากัน และเส้นต้นทุนเท่ากันอย่างไร

4.6 เส้นต้นทุนเฉลี่ยระยะยาว (LAC) มีลักษณะอย่างไร และเกี่ยวข้องกับการประหยัดและไม่ประหยัดต่อขนาดอย่างไร

ข้อ 5. จงตอบคำถามต่อไปนี้ทุกข้อ (หน่วยที่ 5)

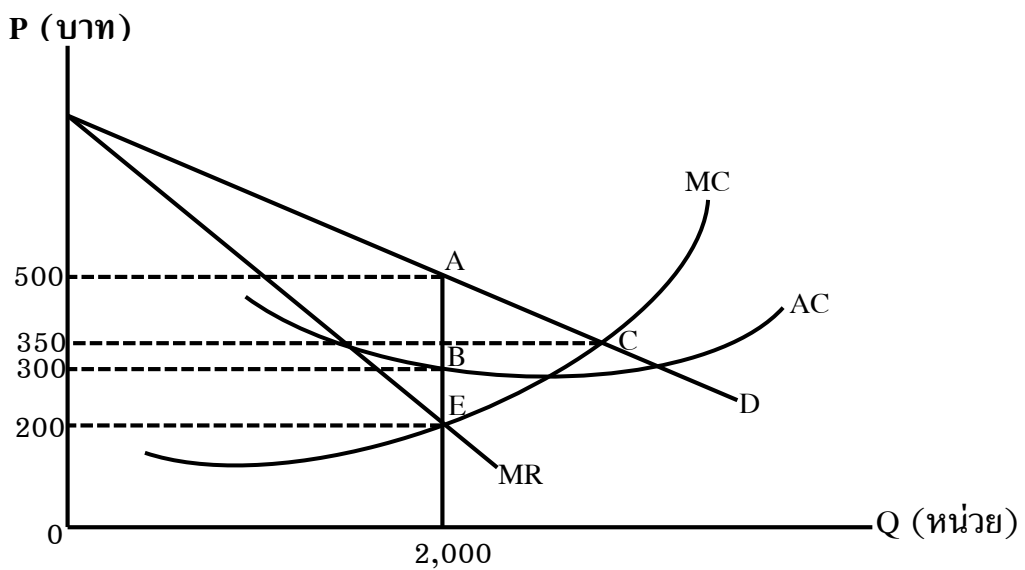
5.1 ถ้าอุปสงค์และอุปทานของตลาดแข่งขันสมบูรณ์มีการเปลี่ยนแปลงโดยมีการเพิ่มขึ้นของอุปทาน แต่อุปสงค์ไม่เปลี่ยนแปลง เส้นอุปสงค์ของหน่วยธุรกิจในตลาดแข่งขันสมบูรณ์จะมีการเปลี่ยนแปลงอย่างไร ให้เขียนกราฟแสดงการเปลี่ยนแปลงทั้งของตลาดและของหน่วยธุรกิจ

5.2 จงตอบคำถามเกี่ยวกับผลประกอบการของหน่วยธุรกิจในตลาดแข่งขันสมบูรณ์ตามภาพที่กำหนดให้



- 5.2.1) ราคาดุลยภาพ บาทต่อหน่วย
- 5.2.2) ปริมาณดุลยภาพ หน่วย
- 5.2.3) รายรับเฉลี่ย บาทต่อหน่วย
- 5.2.4) ต้นทุนทั้งหมด บาท
- 5.2.5) ต้นทุนแปรผันทั้งหมด บาท
- 5.2.6) รายรับทั้งหมด บาท
- 5.2.7) ผลประกอบการ (กำไร/ขาดทุน) บาท

5.3 จงตอบคำถามเกี่ยวกับผลประกอบการของหน่วยธุรกิจผูกขาด ตามภาพที่กำหนดให้



- 5.3.1) ราคาดุลยภาพ บาทต่อหน่วย
- 5.3.2) ปริมาณดุลยภาพ หน่วย
- 5.3.3) รายรับส่วนเพิ่ม บาทต่อหน่วย
- 5.3.4) ต้นทุนทั้งหมด บาท
- 5.3.5) รายรับทั้งหมด บาท

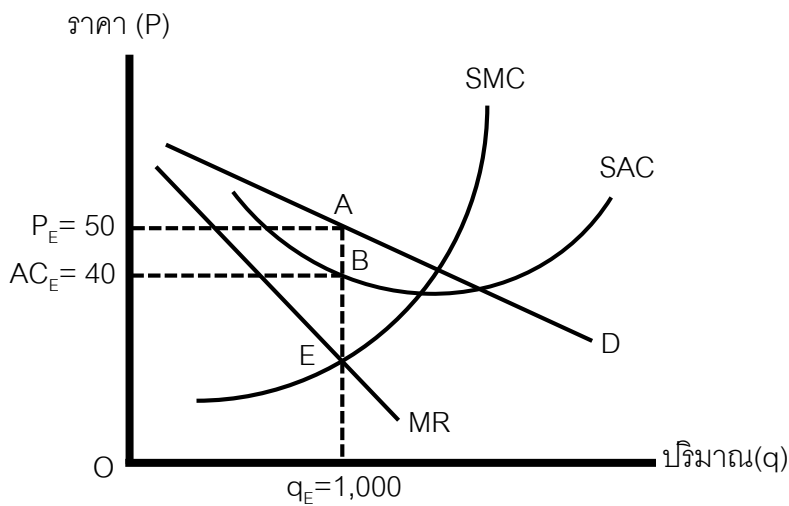
5.3.6) ผลประกอบการ (กำไร/ขาดทุน) บาท

5.3.7) ถ้ารัฐบาลใช้มาตรการควบคุมราคาโดยให้หน่วยธุรกิจผูกขาดกำหนดราคาในอุดมคติ หน่วยธุรกิจผูกขาดจะต้องกำหนดราคาเท่ากับ บาท และมีกำไร/ขาดทุน บาท

6. จงตอบคำถามต่อไปนี้ทุกข้อ (หน่วยที่ 6)

6.1 จงอธิบายลักษณะของเส้นอุปสงค์ในตลาดกึ่งแข่งขันกึ่งผูกขาดเมื่อเปรียบเทียบกับในตลาดผูกขาด

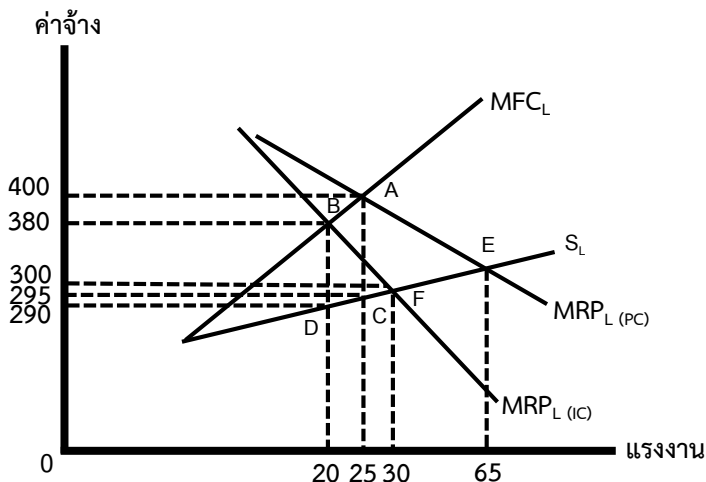
6.2 จากภาพแสดงถึงดุลยภาพระยะสั้นในตลาดกึ่งแข่งขันกึ่งผูกขาด ณ จุดดุลยภาพเพื่อให้ได้กำไรสูงสุด จงแสดงวิธีคำนวณหารายรับทั้งหมด ต้นทุนทั้งหมด และกำไรทั้งหมด



6.3 จงอธิบายกลยุทธ์การตั้งราคา และกลยุทธ์เด่นของทฤษฎีเกมของหน่วยธุรกิจในตลาดผู้ขายน้อยราย

7. จงตอบคำถามต่อไปนี้ทุกข้อ (หน่วยที่ 7)

7.1 จากภาพแสดงถึงเงื่อนไขการจ้างแรงงานเพื่อให้ได้กำไรสูงสุดกรณีตลาดแรงงานแข่งขันไม่สมบูรณ์และตลาดผลผลิตแข่งขันไม่สมบูรณ์ จุดดุลยภาพในการจ้างแรงงานเพื่อให้ได้กำไรสูงสุดคือจุดใด ค่าจ้างแรงงานกี่บาท ต่อคนต่อวัน และจ้างแรงงานทั้งหมดกี่คน



7.2 ถ้าการลงทุนเพิ่มขึ้น ในขณะที่การออมไม่เปลี่ยนแปลง จะทำให้อัตราดอกเบี้ยดูดยภาพเปลี่ยนแปลงไปอย่างไร จงอธิบาย พร้อมวาดกราฟประกอบ

7.3 ต้นทุนทางบัญชีและต้นทุนทางเศรษฐศาสตร์แตกต่างกันอย่างไร จงอธิบาย

8. จงตอบคำถามต่อไปนี้ทุกข้อ (หน่วยที่ 8)

8.1 จงอธิบายแนวคิดของ วิลเฟรโด พาเรโต ในเรื่องของสวัสดิการสังคมสูงสุด

8.2 เงื่อนไขประสิทธิภาพตามหลักของพาเรโตมีอะไรบ้าง หากไม่เป็นไปตามเงื่อนไขดังกล่าว จะทำให้กลไกตลาดไม่สามารถทำหน้าที่ในการจัดสรรทรัพยากรได้อย่างมีประสิทธิภาพ ทำให้เกิดความล้มเหลวของตลาด

8.3 จงอธิบายสาเหตุของความล้มเหลวของตลาด และแนวทางที่ใช้เพื่อการจัดการความล้มเหลวของตลาดในกรณีเกิดผลกระทบภายนอก
